

11.12.

Přiklady:

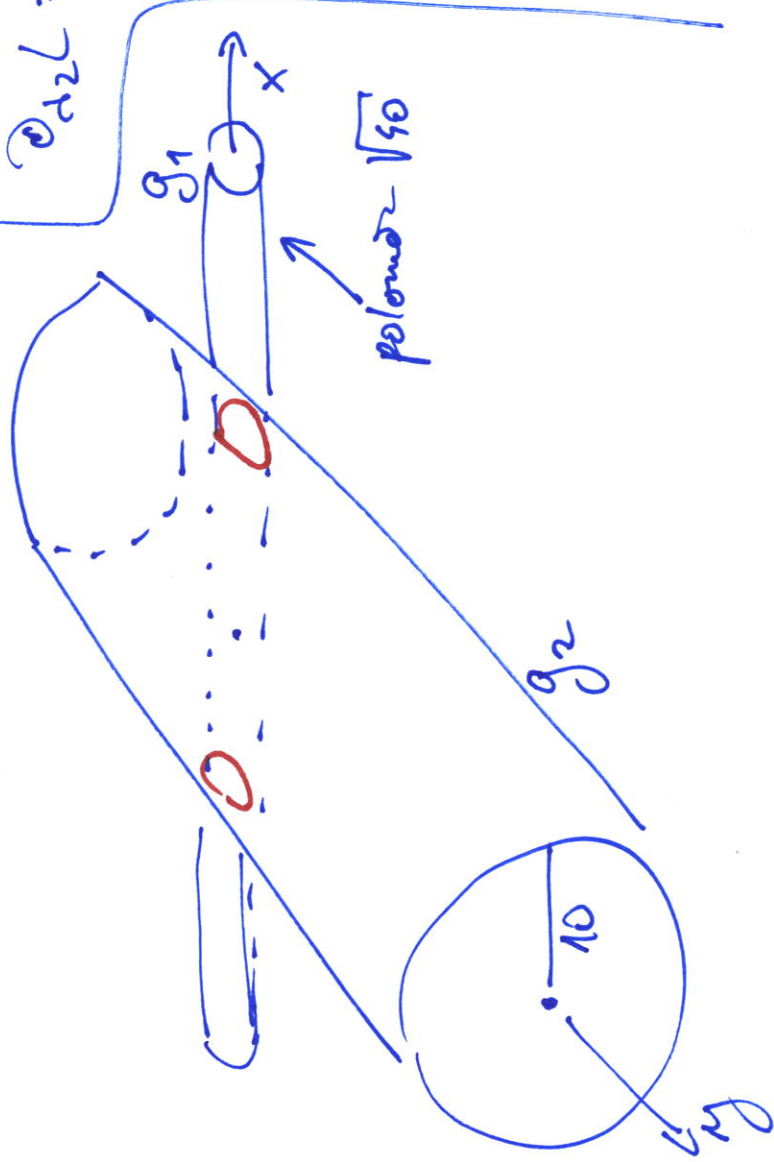
Učete extrémů fce

$$f(x, y, z) = 4x - y \text{ s vazbami:}$$

$$g_1(x, y, z) = y^2 + z^2 - 40 = 0$$

$$g_2(x, y, z) = x^2 + z^2 - 100 = 0$$

Přímě 2 válcových ploch:



Nejprve metodou LM:

$$L(x, y, z, d_1, d_2) = 4x - y + d_1(y^2 + z^2 - 40) + d_2(x^2 + z^2 - 100)$$

$$\partial_x L = 4 + 2d_2x = 0 \quad (1)$$

$$\partial_y L = -1 + 2d_1y = 0 \quad (2)$$

$$\partial_z L = 2d_1z + 2d_2z = 0 \quad (3)$$

$$\partial_{d_1} L = y^2 + z^2 - 40 = 0 \quad (4)$$

$$\partial_{d_2} L = x^2 + z^2 - 100 = 0 \quad (5)$$

Zacneme s rovnici (3):

$$2z(d_1 + d_2) = 0$$

Vyhodnot' tvar!

$$\left[ \begin{array}{l} a \cdot b = 0 \Rightarrow \text{buď } a = 0 \\ \text{nebo } b = 0 \end{array} \right]$$

$$\Rightarrow 2 \text{ možnosti} \Rightarrow \left\{ \begin{array}{l} a) z = 0 \\ b) (d_1 + d_2) = 0 \end{array} \right.$$

a)  $z=0$  ... dosadíme do (4), (5):

$$(4) \quad y^2 + 0^2 - 40 = 0$$

$$y^2 = 40$$

$$y = \pm \sqrt{40}$$

nezávislá  
proměnná

$$(5) \quad x^2 + 0^2 - 100 = 0$$

$$x^2 = 100$$

$$x = \pm 10$$

$\Rightarrow$  4 kandidáti:

$$A = [10, \sqrt{40}, 0]$$

$$B = [10, -\sqrt{40}, 0]$$

$$C = [-10, \sqrt{40}, 0]$$

$$D = [-10, -\sqrt{40}, 0]$$

---

$$b) \quad d_1 + d_2 = 0 \Leftrightarrow d_1 = -d_2$$

Nyní můžeme použít rovnice

(1) a (2):

$$(1) \quad 2d_2x = -4 \quad d_2 = -d_1$$

$$\left[ x = \frac{-4}{2d_2} = \frac{-2}{d_2} = \frac{2}{d_1} \right]$$

$$(2) \quad 2d_1y = 1$$

$$\left[ y = \frac{1}{2d_1} \right]$$

Obě proměnné  $(x, y)$  máme

tedy vyjádříme pomocí  $d_1$ ;

• navíc vidíme, že  $d_1 \neq 0$

$$(2): \quad -1 = 0 \dots \text{nejde}$$

Dále: je možné tyto dva

rovnice dosadit do (4) a (5),

získali bychom tak 2 rovnice

o 2 neznámých  $(d_1, z)$ ,

což by šlo dopočítat.

(DU-sami!)

Abel  $m_y$  ti všimneme, že:

$$x = \frac{8}{dy}, \quad y = \frac{1}{2} \cdot \frac{1}{dy}$$

$$\Rightarrow \boxed{x = 4y} \text{ a toto}$$

dodáme do (5):

$$x^2 + z^2 = 100$$

$$\text{dodá! } (4y)^2 + z^2 = 100$$

$$16y^2 + z^2 = 100$$

$$\text{jistě (4): } y^2 + z^2 = 40$$

odečteme je od sebe:

$$15y^2 = 60 \quad |:15$$

$$y^2 = 4$$

$$\boxed{y = \pm 2}$$

$$\boxed{x = \pm 8}$$

$\Rightarrow$

získali  
parametry

a dopočteme  $z$ :

$$(4) \quad 4 + z^2 = 40$$

$$z^2 = 36 \quad / \sqrt{\quad}$$

$$\boxed{z = \pm 6}$$

parametro  $m, z$  je nezavisly

na znaménkách  $m, x, y$

$\Rightarrow$  máme  $2 \times 2 = 4$  kandidaty:

$$E = [8, 2, 6]$$

$$F = [8, 2, -6]$$

$$G = [-8, -2, 6]$$

$$H = [-8, -2, -6]$$

Dopadíme wie

do  $f$ :

$$f(A) = 40 - \sqrt{40} = 39$$

$$f(B) = 40 + \sqrt{40} = 46 \quad \text{MAX}$$

$$f(C) = -40 - \sqrt{40} = -46 \quad \text{MIN}$$

$$f(D) = -40 + \sqrt{40} = -39$$

$$f(E) = f(F) = 30$$

$$f(G) = f(H) = -30$$

Totež metodou jacobiana:

$$f = 4x - y$$

$$g_1 = y^2 + z^2 - 40 = 0$$

$$g_2 = x^2 + z^2 - 100 = 0$$

$$J = \begin{pmatrix} 4 & -1 & 0 \\ 0 & 2y & 2z \\ 2x & 0 & 2z \end{pmatrix}$$

$$\begin{aligned} \det J &= 4 \cdot 2y \cdot 2z + (-1) \cdot 2z \cdot 2x + \\ &+ 0 \cdot 0 \cdot 0 - 0 \cdot 2y \cdot 2x - \\ &- 0 \cdot 2z \cdot 4 - 0 \cdot (-1) \cdot 2z = \\ &= 4z(4y - x) \end{aligned}$$

1. rovnice soustavy:  $4z(4y - x) = 0$

$\Rightarrow$  2 možnosti  $\left\{ \begin{array}{l} a) z = 0 \\ b) x = 4y \end{array} \right\}$  } totéž jako u LM

Na závěr - ještě jednou příklad  
na prubech fce 1 proměnné

$$f(x) = \log_2(-x^2 + 8x - 12)$$

$$\text{vime: } f(x) = \frac{\ln(-x^2 + 8x - 12)}{\ln 2}$$

a  $\ln 2 \doteq 0,7$  (konstanta!)

①  $D_f$ : musí být  $-x^2 + 8x - 12 > 0$   
bývá kvadr. fce: 2,6

$$D_f = (2,6)$$

a proto  $f$  nemůže být

indus ani liché  
(nesymetrický  $D_f$ )

2) prôstredky s osami:

$P_y$  mems ( $0 \notin D_f$ )

$$P_x: \log_2(-x^2 + 8x - 12) = 0$$

$$\Leftrightarrow -x^2 + 8x - 12 = 1$$

$$\Leftrightarrow -x^2 + 8x - 13 = 0$$

$$D = 64 - 4 \cdot (-1) \cdot (-13) =$$

$$= 64 - 52 = 12$$

$$x_{1,2} = \frac{-8 \pm \sqrt{12}}{-2} = 4 \pm \sqrt{3}$$

$$\text{ozn. } \left. \begin{aligned} x_1 &= 4 - \sqrt{3} \doteq 2,3 \\ x_2 &= 4 + \sqrt{3} \doteq 5,7 \end{aligned} \right\} \in D_f$$

$$\begin{array}{c} | \\ \hline 2 \quad x_1 \quad | \quad x_2 \quad | \\ \hline \end{array}$$



tedy  $P_x$  je  $x_1$  a  $x_2$

kdô je  $f > 0 / < 0$ ?

$$f(x) > 0 \dots \log_2(-x^2 + 8x - 12) > 0$$

$$\Leftrightarrow -x^2 + 8x - 12 > 1$$

$$-x^2 + 8x - 13 > 0$$



$$\Rightarrow f(x) > 0 \text{ v } (x_1, x_2)$$

$$f(x) < 0 \text{ v } (2, x_1) \text{ a v } (x_2, 6)$$

3) limity v krajníc bodoch  $D_f$ :

$$\lim_{x \rightarrow 2+} \log_2(-x^2 + 8x - 12) = 2$$

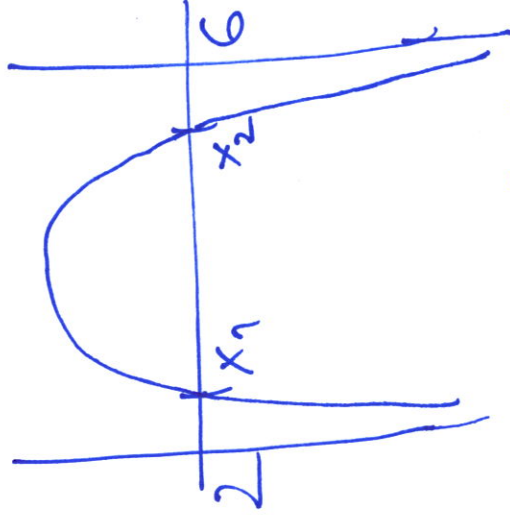
$$\text{vime } x \rightarrow 2+ \Rightarrow -x^2 + 8x - 12 \rightarrow 0+$$

$$\text{a vime } \lim_{y \rightarrow 0+} \log_2 y = \lim_{y \rightarrow 0+} \frac{\ln y}{\ln 2} = \frac{-\infty}{\ln 2} =$$

Protivè  $\ln 2 > 0$ !

Stojně najde  $\lim_{x \rightarrow 6^-} f(x) = -\infty$

4) předběžný graf:



$$5) f'(x) = \left( \frac{\ln(-x^2 + 8x - 12)}{\ln 2} \right)' =$$

$$= \frac{1}{\ln 2} \cdot \frac{-2x + 8}{-x^2 + 8x - 12}$$

6) stac. body:  $f'(x) = 0$

$$\Leftrightarrow -2x + 8 = 0 \Rightarrow \underline{\underline{x = 4}}$$

pro  $x \in D_f$

$$V_f = \{2, 4, 6\}$$

7)  $f(4) = \log_2(-16 + 32 - 12) =$

$$= \log_2 4 = 2$$

$\Rightarrow$  tabulka

$x \in V_f$	2	4	6
$f(x)$ či $\lim_{x \rightarrow 6^-} f(x)$	$-\infty$	2	$-\infty$

$\Rightarrow$  bod  $[4, 2]$  je glob. max.

$$\text{a } H_f = (-\infty, 2)$$

8) asymptoty:

$x = \pm \infty$  nejsou ( $D_f = (2, 6)!$ )

ještě ověřit os. ve 2

a os 6 (provozě

$$\lim_{x \rightarrow 2^+} f(x) = -\infty = \lim_{x \rightarrow 6^-} f(x)$$

$$9) f''(x) = \left( \frac{1}{\ln 2} \cdot \frac{-2x+8}{-x^2+8x-12} \right)' =$$

$$= \frac{1}{\ln 2} \cdot 2 \cdot \left( \frac{x-4}{x^2-8x+12} \right)' =$$

$$= \frac{2}{\ln 2} \cdot \frac{1 \cdot (x^2-8x+12) - (x-4) \cdot (2x-8)}{(x^2-8x+12)^2} =$$

$$= \frac{2}{\ln 2} \cdot \frac{x^2-8x+12-2x^2+16x-32}{(x^2-8x+12)^2} =$$

$$= \frac{2}{\ln 2} \cdot \frac{-x^2+8x-20}{(x^2-8x+12)^2} > 0$$

$$\text{čitatel: } D = 8^2 - 4 \cdot (-1) \cdot (-20) = 64 - 80 = -16 < 0$$

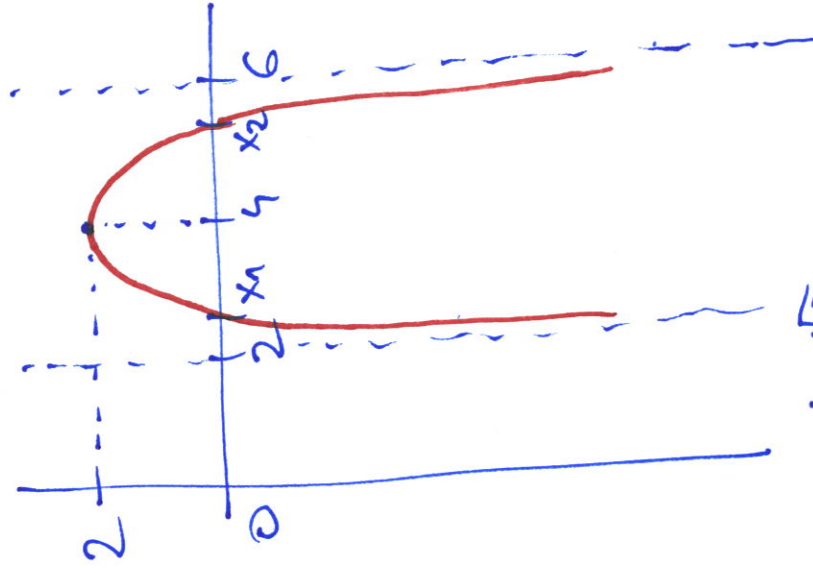
a  $x^2$  je záporné číslo  $\Rightarrow$

$\Rightarrow$  čitatel je celý záporný  
pro  $\forall x \in \mathbb{R}$



$\Rightarrow f''(x) < 0$  v celém  $D_f$   
 $\Rightarrow f$  konkávni v  $D_f$

10) graf:



$$x_1 = 4 - \sqrt{3}$$

$$x_2 = 4 + \sqrt{3}$$